

تاریخ ارزشیابی: 1401/10/6

مدت ارزشیابی: 120 دقیقه

پایه: چهارم

بسمه تعالی

وزارت آموزش و پرورش


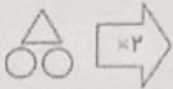
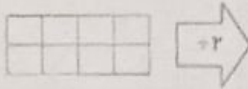
اداره کن آموزش و پرورش استان خوزستان

دبستان غیر انتفاعی مهر


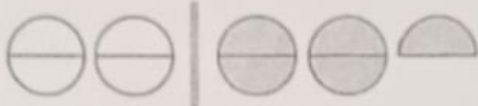


نام: .....

نام خانوادگی: .....

نام درس: ریاضی

ردیف	شرح سوال	بارم
۱	الگوی زیر را ادامه بده. ۱۳۰ - ۲۴۰ - ۳۵۰ - - - - -	۱
۲	اگر شکل ها را ادامه دهیم، شکل نهم از چند دایره تشکیل شده است؟  (۱)                      (۲)                      (۳)                      (۹)	۱
۳	با توجه به عدد ۰۰۶۰۰۰۱۸۵۴ به سوالات پاسخ بده. الف) عدد را به حروف بنویس: ..... ب) رقم ۸ در چه مرتبه ای قرار دارد: .....	۱/۵
۴	در جای خالی عدد مناسب بنویس. ۳ صدتایی + ۹ تا یکی = ۴ تا ده هزارتایی = .....	۱/۵
۵	با توجه به کاری که ماشین انجام می دهد، شکل بعدی را بکش.  	۱
۶	بعد از عدد ۲ را روی محور نشان بده و عدد مخلوط را بنویس. عدد مخلوط: .....	۱
۷	$2\frac{1}{3}$ ساعت روی هم چند دقیقه می شود؟	۱

تاریخ ارزشیابی: 1401/10/6 مدت ارزشیابی: 120 دقیقه پایه: چهارم	بسمه تعالی وزارت آموزش و پرورش اداره کل آموزش و پرورش استان خوزستان دبستان هجر انکاشی مهر	نام: ..... نام خانوادگی: ..... نام درس: ریاضی
---	--	---

1	برای هر شکل با توجه به واژه داده شده یک عدد مخلوط بنویس. <div style="display: flex; justify-content: space-around; align-items: center;"> <div style="text-align: center;">  <p>عدد مخلوط _____</p> </div> <div style="text-align: center;">  <p>عدد مخلوط _____</p> </div> </div>	
1/5	رضا و علی با هم دیوارهای یک خانه را رنگ کردند. رضا $\frac{2}{7}$ و علی $\frac{4}{13}$ از دیوارها را رنگ کردند. الف) آن‌ها روی هم چه کسری از دیوارها را رنگ کرده‌اند؟ ب) چه کسری از دیوارها هنوز رنگ نشده است؟	9
-75	برای محور زیر جمع یا تفریق مناسب بنویس. 	10
1	برای شکل مقابل سه کسر مساوی بنویس. 	11
-75	کسرهای زیر را با هم مقایسه کن و علامت مناسب بگذار. ( $<$ $=$ $>$ ) $\frac{2}{3} \square \frac{10}{10}$ $\frac{1}{3} \square \frac{2}{9}$	12
1	برای شکل مقابل ابتدا یک جمع و سپس یک ضرب مناسب بنویس.  <p>جمع: _____ ضرب: _____</p>	13
1	حاصل ضرب زیر را از هر راهی که می‌خواهی به دست بیاور. $2 \times 5$	14

جزوه سیپی

تاریخ ارزشیابی: 1401/10/6

مدت ارزشیابی: 120 دقیقه

پایه: چهارم

بسمه تعالی

وزارت آموزش و پرورش

اداره کل آموزش و پرورش استان خوزستان

دبستان غیر انتفاعی مهر

نام: .....

نام خانوادگی: .....

نام درس: ریاضی

1/5	15	در یک باغ میوه در شهر دماوند 75 کیلوگرم سیب و 64 کیلوگرم گلابی پخته شده است. اگر سیب ها کیلویی 2300 تومان و گلابی ها کیلویی 2800 تومان فروخته شوند، درآمد حاصل از فروش میوه ها را به دست آورید.
1	16	بارنگ کردن مشخص کنید هر یک از عددهای زیر به کدام طرف نزدیک تر است؟ $400 \leftarrow 357 \rightarrow 500$ $6500 \leftarrow 6530 \rightarrow 6600$
1	17	هر یک از جرم های زیر به صورت تقریبی چند تن است؟ ..... تن $\rightarrow$ 57860 کیلوگرم      3220 کیلوگرم $\rightarrow$ .....
1	18	کدام یک از عددهای زیر بر 3 بخش پذیر هستند. دور آن ها را خط بکش. 9 - 15 - 28 - 36 - 65 - 930
1	19	تقسیم کن و عبارت های درستی تقسیم را بنویس. $605 \overline{) 2}$ عبارت های درستی تقسیم .....
1	20	می خواهیم 12 بسته مداد رنگی 24 تایی را بین 6 نفر تقسیم کنیم. به هر نفر چند مداد رنگی می رسد؟